


# ΜΑΘΗΜΑΤΙΚΑ Α΄

Όνομα: \_\_\_\_\_ Τάξη: \_\_\_\_\_

1. Με βάση τις εικόνες, γράφω τη μαθηματική πρόταση ΠΡΟΣΘΕΣΗΣ που ταιριάζει:




Πόσα είναι όγχα τα ψαράκια στις γυάγες;

$$\square + \square + \square = \square$$



Πόσες είναι όγες οι πένες στις κασετύνες;

$$\square + \square + \square = \square$$




Πόσα είναι όγχα τα μήγα στα δέντρα;

$$\square + \square = \square$$



Πόσες είναι όγες οι μπάγες στα κουτιά;

$$\square + \square + \square + \square = \square$$




Πόσα είναι όγχα τα καναρίνια στα κγρυβιά;

$$\square + \square + \square + \square = \square$$



Πόσα είναι όγχα τα μπαγόνια;

$$\square + \square = \square$$



Πόσες είναι όγες οι ντομάτες στα πιάτα;

$$\square + \square = \square$$



Πόσα είναι όγχα τα βιβγία;

$$\square + \square + \square + \square + \square = \square$$

2. Λύνω τα πιο κάτω προβλήματα.

Διαβάζω, κάνω σχέδιο, γράφω την κατάλληλη μαθηματική πρόταση ΠΡΟΣΘΕΣΗΣ και απαντώ ορθογρωμένα:



Η μαμά έβαλε στο μεγάλο τραπέζι 2 βάζα. Σε κάθε βάζο έβαλε 3 γουρουνίδια. Πόσα είναι όλα τα γουρουνίδια συνολικά;

Μαθηματική πρόταση: \_\_\_\_\_

Απάντηση: \_\_\_\_\_



Ο παππούς φύτεψε 2 σειρές γεμονιές. Σε κάθε σειρά φύτεψε 5 γεμονιές. Πόσες είναι όλες οι γεμονιές που φύτεψε ο παππούς;

Μαθηματική πρόταση: \_\_\_\_\_

Απάντηση: \_\_\_\_\_



Ο Άρης έχει 4 μογυβοθήκες. Σε κάθε μογυβοθήκη έβαλε 2 μογύβια. Πόσα είναι όλα τα μογύβια του Άρη;

Μαθηματική πρόταση: \_\_\_\_\_

Απάντηση: \_\_\_\_\_



Η δασκάρα της Μουσικής έβαλε τις μαράκες σε 3 κουτιά. Σε κάθε κουτί έβαλε 3 μαράκες. Πόσες είναι όλες οι μαράκες ;

Μαθηματική πρόταση: \_\_\_\_\_

Απάντηση: \_\_\_\_\_

3. Σχεδιάζω και συμπληρώνω τη μαθηματική πρόταση ΠΡΟΣΘΕΣΗΣ όπως το παράδειγμα:

2 μήλα σε κάθε καλάθι



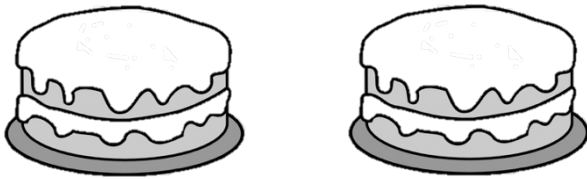
$$2 + 2 = 4$$

3 ψαράκια σε κάθε γυάγα



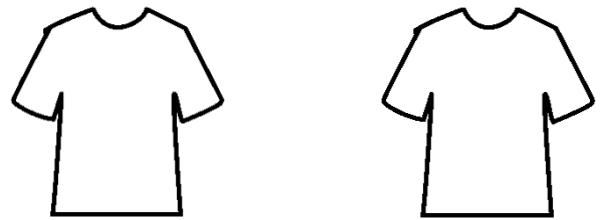
\_\_\_\_\_

4 κέρακια σε κάθε τούρτα



\_\_\_\_\_

5 κουμπιές σε κάθε μπλούζα



\_\_\_\_\_

2 μπαγόνια σε κάθε παιδί




\_\_\_\_\_

1 καλαμάκι σε κάθε ποτήρι




\_\_\_\_\_

3 γεμόνια σε κάθε γεμονιά



\_\_\_\_\_

2 μογύβια σε κάθε μογυβοθήκη



\_\_\_\_\_

ΧΙΛΙΑ ΜΠΡΑΒΟ !!!

