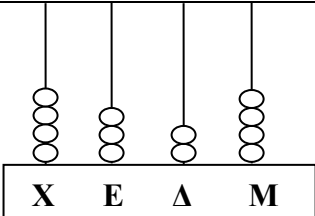
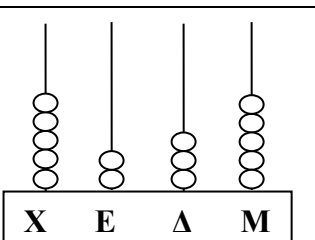
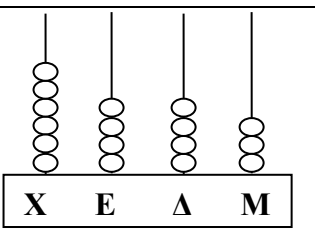
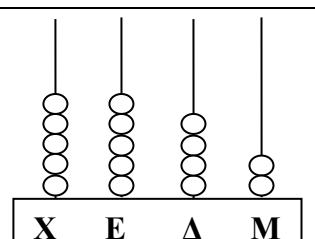
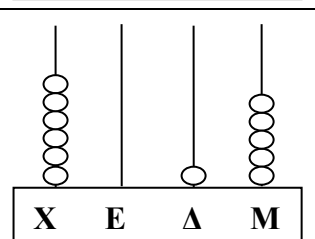
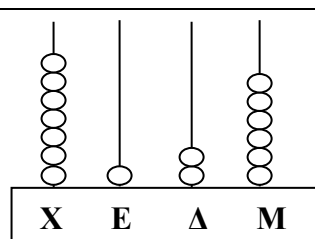


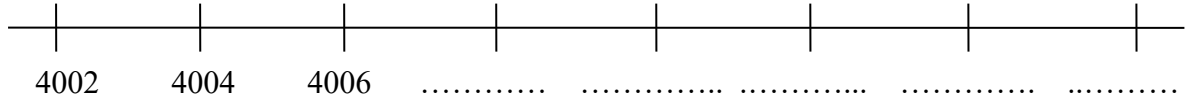



Όνομα: Ημερ.....

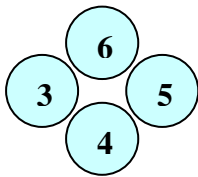
1. Γράφω και διαβάζω αριθμούς.

 <p>X E Δ Μ</p>	<p>4 324</p>	<p>Τέσσερις χιλιάδες τριακόσια είκοσι τέσσερα</p>
 <p>X E Δ Μ</p>		
 <p>X E Δ Μ</p>		
 <p>X E Δ Μ</p>		
 <p>X E Δ Μ</p>		
 <p>X E Δ Μ</p>		

2. Συμπληρώνω τους αριθμούς που λείπουν.



3. Με τα παρακάτω ψηφία σχηματίζω πέντε τετραψήφιους αριθμούς και μετά τους γράφω στη σειρά από το μικρότερο στο μεγαλύτερο.



_____ _____ _____ _____ _____
_____ < _____ < _____ < _____ < _____

4. Γράφω για κάθε αριθμό τον προηγούμενο και τον επόμενο του:

..... 5600

..... 9000

..... 1999

..... 7540

..... 8100

..... 1000

..... 5678

..... 4999